

KPSS

GENEL YETENEK

GENEL KÜLTÜR

DENEME

SINAVI



TEOREM
YAYINCILIK

1. Bu testte 60 soru vardır.
2. Cevaplarınızı, cevap kâğıdının Genel Yetenek Testi için ayrılan kısmına işaretleyiniz.

1. Adam dürüst ve dost canlısı biriydi, arkadaşları da onu bu yüzden çok sevdi.

Bu cümledeki "dost canlısı" sözünün anlamı aşağıdakilerden hangisidir?

- A) İnsanları sevmeyi bilen
- A) Dostlarına dürüstçe davranan
- B) Dost edinmesini bilen ve onları candan seven
- C) Dostluğu her zaman devam eden
- D) Dostlukları karşılıklı ve sürekli olan

2. (I) Çocukları okumaktan soğutan başlıca nedenlerden biri de öğretici olmayı her şeyin üstünde tutmamızdır.(II) Onlara her zaman her şeyi öğrenmeleri gerektiğini söylememizdir.(III) Onları biraz daha rahat bıraksak belki de hem öğretici hem de eğlendirici metinleri okuyacaklardır.(IV) Böylece okumanın tadına vararak ellerinden kitapları düşürmeyeceklerdir.(IV) Biz yazarların isteği de bu değil midir?

Okuma sevgisinin kazanılmasına ilişkin bu parçadaki numaralanmış cümlelerle ilgili olarak aşağıda verilenlerden hangisi yanlıştır?

- A) I. cümlede, okuma sevgisinin kazanılmamasındaki bir nedenden söz edilmiştir.
- B) II. cümlede, okuma sevgisiyle ilgili bir gereklilik vurgulanmıştır.
- C) III. cümlede, okuma sevgisinin kazanılmasına ilişkin bir yöntem söylenmiştir.
- D) IV. cümlede, III. cümlede söylenenlerin sonuçlarıyla ilgili bir tahmin yapılmıştır.
- E) V. cümlede, bir yazarın sözde soru cümlesine yer verilmiştir.

3. (I) Babam gazeteci, annem de piyanistti. (II) Yaratma eylemiyle hep iç içeydim bu nedenle. (III) Öyle ki benim için nefes almak gibi bir şeydi bu. (IV) Yaratıcılığımı özgürce kullanabilmem için önümde hiçbir engel yoktu. (V) Yalnızca hangi alanda başarılı olabileceğimden emin olmam gerekiyordu.

Bu parçadaki numaralanmış cümlelerden hangisi yüklemine göre ötekilerden farklıdır?

- A) I. B) II. C) III. D) IV. E) V.

4. İrfan Uygur'ın "Bizim Oralarda" da resmettiği alemin, böylesine renkli, sıcak ve çarpıcı olması, büyük ölçüde yaşantısından gelen gözlemleri, önemsiz görünen küçük ayrıntılar, romana tam bir somutluk kazandırıyor; birdenbire kendinizi anlatılan kasabada, olayların ve insanların arasında buluveriyorsunuz. Sanki....

Bu parça, dil ve düşünce akışına göre aşağıdakilerden hangisiyle tamamlanabilir?

- A) Olaylar, belirli şartların şekillendirdiği ilişkilere dönüşüyor.
- B) Romanın mükemmel bir olay örgüsü olduğunu kanıtıyor.
- C) Sosyal gerçeklikle insani gerçeklik birbirine giriyor.
- D) Romandaki dünya, sizin dünyanıza karışıyor.
- E) Kişilerin gerçek yaşamdan alındığı kesinleşiyor.

5. Çağımızın okuru, pek sıkıntıya gelmiyor. Kısa kısa oyunlar, romanlar; hepsi o kadar! Bu çağımızın yadsınmaz ve kaçınılmaz bir gerçeğidir. Uzun romanlar, saatlerce süren tiyatro yapıtları kimseye çekici gelmiyor. Çünkü günümüzün insanı, yüzlerce sayfa tutan ağır, yoğun düşünce yüklü romanları okumaya, tiyatroları izlemeye artık zaman ayıramıyor. Sanatçılarımız, artık bu gerçeği görmelidir.

Bu parçada anlatılan gerçeği gören bir sanatçıdan, aşağıdakilerden hangisini yapması beklenir?

- A) Kısa eserler yazması
B) Teknolojik gelişmelere ayak uydurması
C) Sanatını görsel alanlara yöneltmesi
D) Çözümlemelerden kaçınılması, olayların anlatılması
E) Düşünceye değil, sanatsal yöne ağırlık vermesi

6. Karikatürü, popüler karikatür ve sanatsal karikatür diye sınıflamak yanlıştır.---. Yani estetik olma, mesaj taşıma, iletişim aracı olma özellikleri vb. Karikatürün her türünde ben sanatın bu özelliklerini ararım. Karikatürü sadece bu özelliklerini öne çıkararak değerlendirmek de tam doğru değil. Karikatür dediğimizde sanki çizgi öne çıkıyor; oysaki karikatürün özü, espride saklıdır. Amaç espride gizlidir, çizgi ise bir araçtır.

Bu parçada boş bırakılan yere düşüncenin akışına göre aşağıdakilerden hangisi getirilmelidir?

- A) Dünyanın her yerinde, karikatürün aynı nitelikleri taşıması beklenemez.
B) Çünkü karikatür, türü ne olursa olsun, sanatın bazı özelliklerini taşımak zorundadır.
C) Ancak estetik amaçla ortaya konan eserlere karikatür denir.
D) Karikatür henüz bir sanat dalı olmanın tüm gereklerini yerine getirememiştir.
E) Karikatürde mizahın etkileyici gücünden yararlanma amacı söz konudur.

7. Büyük yazarlar kelimelere yepyeni anlamlar kazandırır. Zamanımızın yazarlarına bakınca herkesin harcı olmadığı anlaşılıyor bu işin. Herkes gibi konuşmayı küçümseyerek cüretli işlere girişiyorlar. Ama hünersizlik ve zevksizlik yüzünden yaya kalıyorlar. Ortaya bir sürü zoraki tuhafliklar, soğuk, anlamsız yapmacıklar çıkarıyorlar, bunlar anlatılmak istenen şeyi yükseltecek yerde alçaltıyorlar. Yenilik oldu mu bayılıyorlar, işe yarayıp yaramadığı umurlarında değil. Yeni bir kelime kullanmak isteğiyle eskisini atıyorlar, çok defa da attıkları kelime yenisinden daha kuvvetli, daha diri oluyor.

Bu parçada yazar günümüz yazarlarıyla ilgili olarak neden yakınmaktadır?

- A) Büyük yazarları takip etmemelerinden
B) İyi eser vermemelerinden
C) Kelimeleri bilinçsizce kullanmalarından
D) Özgün olmamalarından
E) Yaşama sevinci taşımamalarından

8. Kişilerin ruh yapısını anlamayı kolaylaştıran ve yaşananları bir empati duyarlılığı ile veren bu eser, yazarın karşılıklı konuşmalara dayalı yazınsal türlerde eriştiği yetkinliğe de dikkat çekmiştir.

Bu parçadaki altı çizili sözlerle, esere ilişkin olarak anlatılmak istenen aşağıdakilerden hangisidir?

- A) Yaşama biçimimizi belirleyen bir özelliğinin olduğu
B) Duyguları yansıttasındaki gerçekliliği
C) Topluma duyarsız olmadığı
D) Geçmiş yaşantıları konu edinmesi
E) Yaşananları kendisi yaşıyormuşçasına verebilmesi

9. Sanatçıların eserlerine yönelik olumlu ya da olumsuz eserler kaleme alan eleştirmenlerimizin işi gerçekten de zordur ama bazı eleştirmenlerin işi nedense kolay oluyor çünkü kendine yakın buldukları sanatçıların eserlerini değerlendirmeden okuma zahmetine katlanmadan okuyucuya muhteşem diye tanıtıyorlar.

Bu parçada sözü edilen bazı eleştirmenlerin o eslere yönelik takındıkları tavrı en iyi özetleyen deyim aşağıdakilerden hangisidir?

- A) deli divane oluyorlar
- B) el pençe divan duruyorlar
- C) göklere çıkarıyorlar
- D) toz kondurmuyorlar
- E) tepelerine çıkarıyorlar

10. Aşağıdaki cümlelerin hangisinde bir noktalama yanlışlığı vardır?

- A) Hikâyede "çalışkanlık" ön plâna çıkmaktaydı.
- B) Ayşe; Hasan, Mehmet ve Ali'den daha çalışkandır.
- C) O sırada öğrenci: "Yarın geliyorum." dedi.
- D) Programlı çalışmazsa, başarılı olamayacaktır.
- E) Eyvah, yemeği ocakta unuttum!

11. Aşağıdaki cümlelerden hangisi, ayrıca içinde verilenlerle uyuşmamaktadır?

- A) Son yıllarda filenin sultanlarının voleybolda gösterdikleri başarı, voleyboldaki başarımızın katlanarak devam edeceğini gösteriyor.(çıkartım)
- B) Ayrıntıların göz ardı edilmediği bir ortamda seninle konuşacağını sanmıştık. (gerçekleşmemiş beklenti)
- C) Azimli bir şekilde çalışıp başarılar kazanan bu gencin istediği mesleği yapacağından eminim.(ön yargı)
- D) Senelerdir halkımıza büyük korkular yaşatan depremler devam edecek gibi. (tahmin)
- E) Aklımızın ucundan dahi geçmeyen bu yaban ellere seni görmek için geldik.(amaç)

12. "Şiirler yazdığım için bilirim; bir şiirin, kağıda dökülmeden önce, kafada belirişi, sinir bozucu, yakışsız bir iş gibi görünmüştür bana. Bu yüzden daha ilk sözcüklerden başlayarak bu belirtileri yazmaya bakarım. Şiir ancak yazılmaya başlandıktan sonra biçimini alır, saygıdeğer bir iş olur, Divan şairinin, şiir yazmayı şiir söylemesi yadırgatıcıdır. Kendi başına düşünce, kendi başına akıl, sıkıntı vericidir."

Bu paragrafta vurgulanan ana düşünce aşağıdakilerden hangisidir?

- A) Şiir gerçek güzelliğe, yazıya dökülünce ulaşır.
- B) Şiir söyleme, şiir yazmaktan daha güçtür.
- C) Düşünceye dayalı şiir; başarılı bir esere katına ulaşamaz.
- D) Şiirin değerini belirleyen temel öge seçilen konudur.
- E) İnsan kendi elinden çıkan şiiri gerçekçi bir biçimde değerlendiremez.

13. Çocukluk ve sanat, birbirini besleyen iki sevinç ve umut kaynağıdır. Bu iki kaynağın yok edildiği yere mutluluk ve aydınlık giremez. Oysa çocuklar ve sanatçılar hâlâ ne komik baskılar altındadırlar. Eski düzen ve düşüncelere yapışıp kalmışların, küçük çıkarları içinde kabuk bağlamışların sürdürdüğü bu baskılar yüzünden çok yerde ne çocuklar gerçekten çocuk, ne sanatçılar gerçekten sanatçı olabiliyorlar. Yaşanmaya değer dünya, çocuğun ve sanatın rahat soluk alacağı bir dünyadır.

Aşağıdakilerden hangisi bu parçada yakınılan durumlardan biri değildir?

- A) Sanatçıların ve çocukların baskılara maruz kalmaları
- B) Sanatçıların yaratıcılığının engellenmesi
- C) Çocukların, çocukluklarını yaşayamamaları
- D) Eski düzeni sürdürmeye çalışan dar düşünceli insanların bulunması
- E) Sanatçıların, çocuk problemlerine eğilmekten kaçınmaları

14. Eskiden gençlerin, yeni yetişenlerin şiirlerini okurdum. Şimdi onlar da sarmıyor beni. Bakıyorum eskilerin dedikleriyle onların dedikleri arasında büyük bir ayırım yok. Yeni dergileri karıştırıyorum, bakıyorum, gençler yine dün söylenenlerin aynısını tekrar tekrar önümüze sürmüşler. Şöyle içime sinen bir başkalığı olan şiirle binde bir karşılaşıyorum.

Bu paragrafta yazarın genç şairlerde bulduğu eksiklik aşağıdakilerden hangisidir?

- A) Özlülük B) Yalınlık C) Etkileyicilik
D) Akıcılık E) Özgünlük

15. (I) Üniversite hocalığı dışında başka bir iş yapmamaktayım işin gerçeği. (II) Eşref saatimde genellikle dünya klasiklerini okumaya gayret ediyorum. (III) Ayrıca bazen öykü yazıyorum, öykü denemelerim var ufak tefek. (IV) Ama ben bunlara öykü diyemiyorum şimdilik, bu yazdıklarımı "öykü" olarak da adlandırmak istemiyorum; çok iddialı olur. (V) Bu yazdıklarımı bazen yayınevleri, kitap haline getirmeyi düşünür müsünüz, diye sorarlar bana. (VI) Öykünün ne olduğunu, nasıl yazıldığını anladığım an, bunları yayımlamayı düşünürüm.

Bu parçada numaralanmış cümlelerin hangisinde koşul söz konusudur?

- A) II. B) III. C) IV. D) V. E) VI.

- 16.

Yazarlığın da ozanlığın da baş koşulu dille içli dışlı I
olmaktır. Kolay bir iş değildir bu. Bir yandan ken- II
dimiz sürekli denemeler yapacağız bir yandan da
dilimizde yaratılmış ürünleri eksiksiz izleyeceğiz. III
Bana öyle geliyor ki senin ekşiğin bu. IV V

Bu parçadaki altı çizili sözcüklerin türleri aşağıdakilerin hangisinde sırasıyla, doğru olarak verilmiştir?

- A) Zarf, zamir, sıfat, bağlaç, isim
B) Zarf, sıfat, isim, edat, sıfat
C) Sıfat, sıfat, isim, edat, sıfat
D) Sıfat, zamir, sıfat, bağlaç, isim
E) Sıfat, zamir, sıfat, edat, isim

17. Dağ köyüne doğru ilerliyorduk, sararmış yap- I II
raklar eşliğinde. Yamaçları tırmanırken nasıl III
oluştğunu anlayamadığım bir heyecan
sardı beni. Ağzım, açık olduğum yere çöktüm.
IV V

Yukarıdaki parçada numaralanmış sözcüklerin hangisinde ünlü düşmesi olmamıştır?

- A) I. B) II. C) III. D) IV. E) V.

18. Şehirdeki tarihi ve turistik yerleri dolaşırken sorularımı dinlemiş, verecek cevap bulamamıştı.

Bu cümledeki anlatım bozukluğu aşağıdaki değişikliklerin hangisiyle giderilebilir?

- A) "tarihi" sözü cümleden atılarak
B) "sorularımı" yerine "sorunlarımı" sözü getirilerek
C) "dolaşırken" yerine "gezerken" sözü getirilerek
D) "dinlemiş" sözü "dinlemişti" yapılarak
E) "verecek" sözünden önce "sorularıma" getirilerek

19. Gelecek hakkındaki bilgisizliğimiz olmasa acaba nasıl yaşardık? Neler olacağını bilip de onları.....başka olaylara neden olmaz mıydık? Hayatımızıiçin bence geleceğin hep karanlık içinde gizli olması gerekiyor.

Bu cümlede boş bırakılan yerlere sırasıyla aşağıdakilerden hangileri getirilmelidir?

- A) kanıtlamayı amaçlasaydık-değiştirebilme-
miz
B) yazmayı becerebilseydik-açıklayabilmemiz
C) anlatmaya girişseydik-devam edebilmek
D) çözümlenmeyi başarsaydık-sorgulayabilmemiz
E) değiştirmeye kalksaydık-sürdürebilmemiz

20.

- I. Ulus olma bilincine erişmemiş toplumlarda anadil bilinci yoktur.
- II. Daha da ileri gidilip "Cennette konuşulan dilin Arapça olduğuna" ilişkin fetvalar verilebilmiştir.
- III. Örneğin bizim Divan edebiyatı sanatçıları-mız, hatta Süleyman Nazif, Cenap Şahabet-tin gibi ozanlarımız Osmanlıcanın dışında bir dille sanat yapılamayacağını düşün-müşlerdir.
- IV. Böyle toplumların aydınları, kendi anadil-lerinde yaratılan sanat ürünlerine bile ya-bancılaşılabirler.
- V. Bugün de anadili yerine Doğu ya da Batı dillerinden birine yönelenlerin davranışları üzerinde bu açıdan durulmalıdır.

Yukarıdaki numaralanmış cümlelerin anlamlı bir bütün oluşturabilmesi için hangileri yer de-ğiştirmelidir?

- A) I ve II B) II ve III C) II ve IV
D) III ve IV E) III ve V

21. ve 22. SORULARI AŞAĞIDAKİ PARAGRAFA GÖRE CEVAPLAYINIZ.

(I) Mehmet Akif, eserlerinde en temiz, en doğal Türkçenin en güzel örneklerini vermiştir. (II) Mehmet Akif'in dilin sadeleşmesinde ve yaşayan Türkçenin edebi dil olarak kullanılmasında rolü büyüktür. (III) Türkçeye en fazla hizmet etmiş sanatçılarımızdan biridir. (IV) Dilde sadeleşmenin taraftarıdır. (V) Yazı dilinin bütün Türkler tarafından anlaşılabilir hale gelmesini istemiştir. (VI) Fakat bununla beraber dilin özleşmesinde aşırılığı da kabul etmemiştir. (VII) Halk tarafından kabul gören kelimelerin atılmasına karşı çıkmıştır.

21. Bu parçaya göre Mehmet Akif için aşağıdakilerden hangisi söylenemez?

- A) Türkçenin en güzel örnekleri eserlerinde mevcuttur.
- B) Dilin tamamen sadeleşmesi gerektiğini savunmuştur.
- C) Türkçemize en fazla hizmet etmiş insanlardan biridir.
- D) Türkçenin edebi dil olarak kullanılmasını sağlayanlardandır.
- E) Eserlerinde, yaşayan Türkçeyi kullanmıştır.

22. Yukarıdaki parçada numaralanmış cümlelerin hangilerinde karşılaştırma vardır?

- A) I ve III B) II ve III C) I ve IV
D) IV ve V E) VI ve VII

23. - 25. SORULARI AŞAĞIDAKİ PARAGRAFA GÖRE CEVAPLAYINIZ.

İnsanlar bitkilerden yararlanmakla kalmamışlar, böceklerden de yararlanmışlar. İpek böceklerinin ipeği, arıların balı, bazı kabuklu böceklerin boyası gibi. Bazı böcekler ise içerdiği protein ve yağ depolarından dolayı besin kaynağı olarak görülmüştür. Öyle ki bazı bilim adamları açlık sorununa karşı bu böcekleri çözüm olarak önermektedir. Kimi böcekler bahçe ve tarlalarda bazı zararlılarla mücadele amacıyla kullanılıyor. Seracılıkta bitkilerin böcek kullanılarak döllendirilmesi sık kullanılan, para gerektirmeyen etkili bir yoldur. Böcekler fiziki yapıları yaşam biçimleriyle de insanlara esin kaynağı olmuştur. Bunun bir örneği Londra metrosunun yapımı sırasında görülmüştür. Metronun kazı işlemlerinde Culex adlı sivrisineğin hortumunun çalışma biçimi örnek alınmıştır.

23. Bu parçada aşağıdakilerin hangisinden söz edilmemiştir?

- A) Teknolojik alanlarda bazı böceklerin fizyolojik yapısının örnek alındığından
- B) Böceklerden nasıl yararlanıldığından
- C) Böceklerden seracılıkta nasıl yararlanıldığından
- D) Açlık sorunu karşısında böceklerden yararlanılabileceğinden
- E) Böcekleri sınıflandırma sisteminden

24. Bu parçaya göre böceklerin açlık sorununa çözüm olmaları aşağıdakilerin hangisinden kaynaklanmaktadır?

- A) Protein ve yağ bakımından besin değerlerinin yüksek olmasından
- B) Çok sayıda olmaları
- C) Çevreye az zarar vermeleri
- D) Hızlı bir biçimde çoğalmaları
- E) İnsan vücudunun kolaylıkla sindirebilmesi

25. Bu parçada kullanılan anlatım biçimi aşağıdakilerden hangisidir?

- A) Tartışma B) Öyküleme
C) Betimleme D) Açıklama
E) Çözümleme

26. "Edebiyatın büyük dönemleri, ulusların ruh büyüklüğüyle aynı zamana rastlar."

Bu cümleden çıkarılabilecek kesin yargı aşağıdakilerden hangisidir?

- A) Edebiyatın gelişmesinin kendine özgü koşulları vardır.
B) Edebiyatın gelişmişliği ile toplumun ruhsal gelişmişliği arasında doğru orantı vardır.
C) Edebiyatı doğuran temel güç, toplumun ekonomik gelişmişliğidir.
D) Edebiyat, ruhsal yönden gelişmiş toplumlarda daha çok sevilir.
E) Edebiyatın ruhsal zenginliğini, toplumun gelişmişliği besler.

27.

- I. Bu gözlemlerini de çok başarılı bulurum.
II. Fakat Ömer Seyfettin'i her zaman zevkle okudum.
III. Çocukluğumda büyük zevk aldığım birçok kitabı sonradan okuyunca tatsız bulmuşumdur.
IV. Ayrıca müthiş bir gözlemcidir Ömer Seyfettin; onu okurken geçmiş asrın başlarını geniş bir pencereden seyrettiğim duygusuna kapılırdım.
V. Onun hikayelerinde eskimeyen bir taraf var ki, o da içtenliktir.

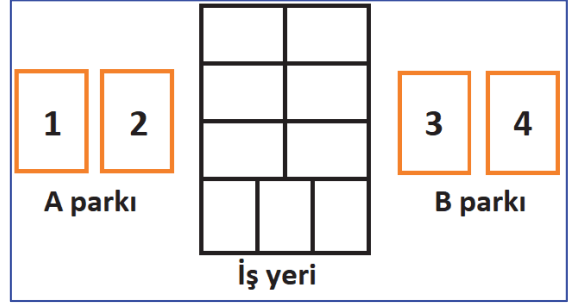
Yukarıdaki numaralanmış cümleler bir bütün oluşturacak biçimde sıralandığında hangisi üçüncü cümle olur?

- A) I B) II C) III D) IV E) V

28. - 30. SORULARI AŞAĞIDAKİ BİLGİLERE GÖRE CEVAPLAYINIZ.

Dikkat! Soruları verilen bilgilere göre, birbirinden bağımsız olarak cevaplayınız.

Aşağıdaki şekilde, bir iş yerine ait otoların park edildiği otopark alanı gösterilmektedir.



Bu park yerlerine, şirkete ait olan; Opel, Tofaş, Ford ve Toyota markalı, mavi, kırmızı, yeşil ve siyah renkli araçlar belli bir düzene göre park edeceklendir. Hangi aracın nereye park edeceğine dair şu bilgiler verilmektedir:

- Araçların her birinin üretim tarihleri farklı olup; 2009, 2010, 2011 ve 2012 modellerinden birine sahiplerdir.
- Siyah renkli olan araç 2010 modeldir.
- Mavi renkli Ford marka araç, en eski model araçla aynı grup park yerinde birlikte bulunmaktadır.
- 3 nolu park yerindeki araç en yeni modeldir.
- 4 nolu park yerindeki aracın modeli, 2 nolu park yerindeki aracın modelinden daha yenidir.
- Kırmızı renkli araç, Tofaş marka araçtan daha eski bir modeldir.

28. Bu bilgilere göre, en yeni ve en eski model araçlar, kaç numaralı park yerinde olabilirler?

- A) 1 ve 2 nolu
B) 1 ve 3 nolu
C) 2 ve 3 nolu
D) 1 ve 4 nolu
E) 2 ve 4 nolu

29. Verilenlere göre, en eski ve en yeni model araçların markaları aşağıdakilerin hangisinde doğru bir şekilde verilmiştir?

- A) Ford ve Toyota
- B) Toyota ve Tofaş
- C) Ford ve Opel
- D) Opel ve Tofaş
- E) Ford ve Tofaş

30. Siyah renkli aracın park yeri ve model yılı bilgileri aşağıdakilerin hangisinde doğru bir şekilde verilmiştir?

- A) 1 nolu park yerindedir ve 2009 modeldir.
- B) 1 nolu park yerindedir ve 2011 modeldir.
- C) 2 nolu park yerindedir ve 2012 modeldir.
- D) 3 nolu park yerindedir ve 2009 modeldir.
- E) 4 nolu park yerindedir ve 2010 modeldir.

31. a, b, c birer farklı pozitif tamsayıdır.

$$a + c = 12$$

$$\frac{a}{c} + 3 = b$$

olduğuna göre, b kaç farklı değer alır?

- A) 4
- B) 5
- C) 6
- D) 7
- E) 8

32. a tamsayı olmak üzere,

$(a^{2011} + 2011)^{2012}$ sayısı çift sayı olduğuna göre aşağıdakilerden hangisi kesinlikle tek sayıdır?

- A) $a \cdot (a + 1) + 4a^2$
- B) $a^3 - a^2 + 6a$
- C) $(2012^{2011} + 2011 \cdot a)^{2011}$
- D) $2011^a + a^{2011}$
- E) $a^{2012} + 2011^{2012}$

33. a, b, c negatif reel sayılardır.

$$\frac{a+b}{b+c} < 1 \text{ ve } \frac{a+c}{b+c} > 1$$

olduğuna göre, aşağıdaki sıralamalardan hangisi doğrudur?

- A) $c < b < a$
- B) $a < c < b$
- C) $c < a < b$
- D) $b < a < c$
- E) $a < b < c$

34. x, y, z pozitif tamsayıdır.

$$\frac{21}{16} = x + \frac{1}{y + \frac{1}{z}}$$

olduğuna göre, $x + y + z$ toplamı aşağıdakilerden hangisidir?

- A) 5
- B) 6
- C) 7
- D) 8
- E) 9

35. 4 günde bir nöbet tutan bir doktor, 52. nöbetini pazartesi günü tuttuğuna göre, ilk nöbetini hangi gün tutar?

- A) Pazar
B) Pazartesi
C) Salı
D) Çarşamba
E) Perşembe

36. Ayarları 20 ve 14 olan iki kolye bir potada eritilerek ayarı 16 olan bir kolye elde ediliyor.

Ayarı 14 olan kolyenin ağırlığı 10 gr olduğuna göre elde edilen kolyede kaç gr saf altın vardır?

- A) 8 B) 9 C) 10 D) 11 E) 12

37. $\frac{a^3 - a^2 - 6a}{2a^2 + 3a - 2} \cdot \frac{a^4 - 2a^3 - 3a^2}{2a^2 - a}$

ifadesinin en sade hali aşağıdakilerden hangisidir?

- A) $\frac{a-1}{a+1}$ B) $\frac{3a}{a+1}$ C) $\frac{1}{a+1}$
D) $\frac{3a-2}{a}$ E) $\frac{2a+7}{3a}$

38. $(x+4)^{x^2-4} = 1$ olduğuna göre, x in farklı tam sayı değerlerinin çarpımı aşağıdakilerden hangisidir?

- A) -60 B) -12 C) -4 D) 12 E) 60

39. Eşit kapasitedeki x işçi her biri x kapasiteyle, günde x saat çalışarak x parça işi x günde bitiriyorlar.

Buna göre, y işçi kapasitelerini $\frac{1}{2}$ katı kadar artırılıp günde $\frac{1}{3}$ kat kadar daha az çalışarak y günde ne kadar iş bitirebilirler?

- A) $\frac{y^2}{x}$ B) $\frac{y}{x^2}$ C) $\frac{y^2}{x^2}$ D) $\frac{x}{y}$ E) $\frac{y}{2}$

40. $a < 0$ olmak üzere;

$$\frac{|-3a| + |a|}{\sqrt{(-a)^2}}$$

işleminin sonucu aşağıdakilerden hangisidir?

- A) -4 B) -2 C) 1 D) 2 E) 4

41. $x\Delta y = (2a-1)x + (a+2)y + 4xy + a$ işlemi veriliyor. " Δ " işleminin değişme özelliği olduğuna göre, $(a-1)\Delta(a-2)$ işleminin sonucu aşağıdakilerden hangisidir?

- A) 20 B) 23 C) 26 D) 30 E) 42

42. 4 tanesini 3a TL ye alınan bir malın 5 tanesi 6a TL ye satılırsa kar-zarar durumu aşağıdakilerden hangisidir?

- A) %30 kar B) %30 zarar C) %60 zarar
D) %60 kar E) ne kar-ne zarar

43. Bir lokantada her masada 6 sandalye vardır. Lokantadan 5 masa ve 46 sandalye çıkarılırsa, her masaya 4 sandalye düşüyor.

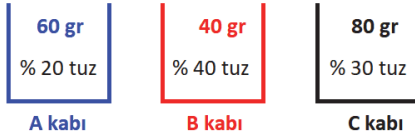
Buna göre, başlangıçta bu lokantada kaç masa vardır?

- A) 13 B) 14 C) 15 D) 16 E) 17

44. $x = \frac{\sqrt{5} - \sqrt{2}}{\sqrt{2} - 1}$ ise $x = \frac{\sqrt{2} + 1}{\sqrt{5} + 2}$ nin x türünden ifadesi aşağıdakilerden hangisidir?

- A) $\frac{x}{3}$ B) $3x$ C) $\frac{x}{2}$ D) $2x$ E) $x+3$

- 45.



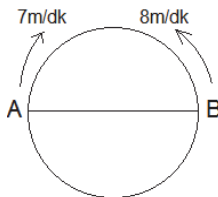
Yukarıdaki kapların ağırlıkları ve yüzde oranları verilmiştir.

- A kabındaki tuzlu suyun $\frac{1}{2}$ si
 B kabındaki tuzlu suyun $\frac{1}{4}$ ü
 C kabındaki tuzlu suyun $\frac{3}{4}$ ü

Karıştırılırsa yeni karışımın tuz oran yüzde kaç olur?

- A) 28 B) 30 C) 32 D) 36 E) 40

- 46.



AB çaplı, çevresi 120 m olan çember biçimindeki pistin A ve B noktalarından aynı anda verilen hızlarla harekete başlayan iki hareketlinin ikinci karşılaşması kaç dk sonra olur?

- A) 8 B) 12 C) 16 D) 24 E) 30

47. 16 adet sayıdan bir kısmının aritmetik ortalaması 9, diğerlerinin aritmetik ortalaması 7 dir.

Bu sayıların toplamı 136 olduğuna göre ortalaması 7 olan sayılar kaç tanedir?

- A) 4 B) 5 C) 6 D) 7 E) 8

48. 5 evli çiftin arasından 5 kişilik bir grup oluşturulacaktır.

Bu grup içerisinde 2 evli, çift bulunma olasılığı aşağıdakilerden hangisidir?

- A) $\frac{5}{21}$ B) $\frac{1}{10}$ C) $\frac{1}{5}$ D) $\frac{5}{126}$ E) $\frac{1}{42}$

49. $2^a = 5^b$ olduğuna göre,

$2^{\frac{2a+b}{b}} - 5^{\frac{b}{a}}$ işleminin sonucu aşağıdakilerden hangisidir?

- A) 6 B) 7 C) 25 D) 48 E) 62

50. " 2134422 " sayısının rakamlarının yerleri değiştirilerek oluşturulabilecek 7 basamaklı sayılardan kaç tanesi tek sayıdır?

- A) 40 B) 60 C) 90 D) 100 E) 120

51. - 53. SORULARI AŞAĞIDAKİ BİLGİLERE GÖRE CEVAPLAYINIZ.

YIL	Kayıt yaptıran öğrenci	Kazanan sayısı
2003	700	70
2004	600	180
2005	600	200
2006	600	120
2007	600	150

Yukarıdaki tabloda belirtilen yıllarda bir dershaneye kayıt yaptıran ve yıl sonunda KPSS 'yi kazanan öğrenci sayıları verilmiştir.

51. Kazanan öğrenci sayıları bir daire grafiğinde gösterilseydi 2005 yılında kazanan öğrenciler kaç derecelik merkez açı ile gösterilirdi?

- A) 35 B) 60 C) 75 D) 80 E) 100

52. 2004 yılında sınavı kazanan öğrenci sayısı tabloda 5 yıllık sürede sınavı kazanan öğrenci sayısının yüzde kaçdır?

- A) 35 B) 30 C) 25 D) 20 E) 15

53. Tabloya göre en başarılı yıl hangisidir?

- A) 2003 B) 2004 C) 2005
D) 2006 E) 2007

54. - 56. SORULARI AŞAĞIDAKİ BİLGİLERE GÖRE CEVAPLAYINIZ.

2024 yılında düzenlenecek olan kış olimpiyatlarının seçmelerine A, B, C, D, E, F, G ülkelerinden ikişer yarışçı katılmıştır. Bu seçmelere Arzu, Burcu, Cezmi, Dilek, Emine, Furkan, Gaye, Halime, İlyas, Kemal, Leman, Mehmet, Nihal ve Ozan adlı yarışçılar katılmıştır. Bu yarışçıların hangi ülkelerden geldiğiyle ilgili olarak aşağıdaki bilgiler verilmiştir:

- ✓ Dilek D, Kemal C, Mehmet G ülkesinden gelmiştir.
- ✓ Arzu ve Emine aynı ülkeden gelmiştir.
- ✓ Gaye ve İlyas aynı ülkeden gelmiştir.
- ✓ Burcu ve Leman A ya da B'den

gelmiştir ancak ikisinin geldiği ülke birbirinden farklıdır.

54. Bu bilgilere göre aşağıdakilerden hangisi kesinlikle doğrudur?

- A) Emine A ülkesinden gelmiştir.
B) Gaye E ülkesinden gelmiştir.
C) Halime D ülkesinden gelmiştir.
D) Leman ve Furkan aynı ülkeden gelmiştir.
E) Cezmi ve Nihal farklı ülkelerden gelmiştir.

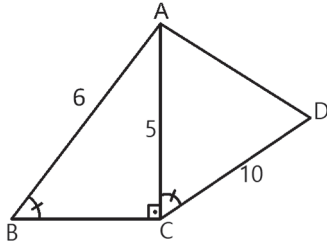
55. Bu bilgilere göre aşağıdakilerden hangisi kesinlikle yanlıştır?

- A) Arzu E ülkesinden gelmiştir.
B) Nihal C ülkesinden gelmiştir.
C) İlyas F ülkesinden gelmiştir.
D) Halime ve Ozan aynı ülkeden gelmiştir.
E) Gaye ve Leman farklı ülkelerden gelmiştir.

56. Furkan'ın G ülkesinden geldiği durumda Halime hangi ülkeden kesinlikle gelmiş olamaz?

- A) A B) F C) B D) D E) C

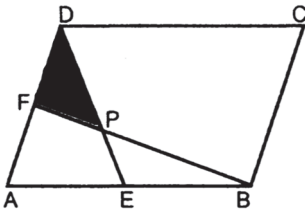
57.



Yandaki şekilde
A(ACD)
kaç br²
olur?

- A) $\frac{125}{6}$ B) $\frac{172}{3}$ C) $\frac{111}{6}$ D) 40 E) 30

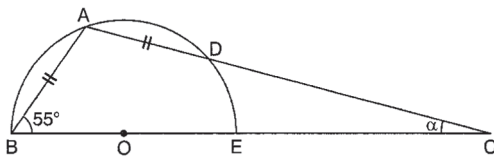
58.



E ve F bulundukları kenarların orta noktaları ve ABCD paralel kenarının alanı 108 cm² ise taralı alan kaç cm² dir?

- A) 9 B) 10 C) 12 D) 15 E) 18

59. O, yarım çemberin merkezi,

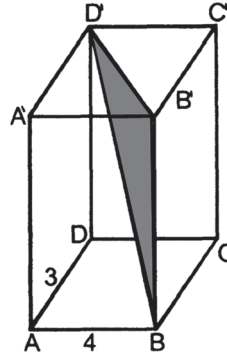


$AB = AD$, $m(\widehat{ABC}) = 55^\circ$, $m(\widehat{ACB}) = \alpha$

Yukarıdaki verilere göre, α kaç derecedir?

- A) 15 B) 20 C) 25 D) 30 E) 35

60.



Şekildeki dikdörtgenler prizmasında cisim köşegeni,

$IBD'I = 13$ cm,

$IABI = 4$ cm,

$IADI = 3$ cm ise

prizmanın hacmi kaç cm³ tür?

- A) 100 B) 121 C) 144 D) 169 E) 196

GENEL YETENEK TESTİ BİTTİ.
CEVAPLARINIZI KONTROL EDİNİZ.

1. Bu testte 60 soru vardır.
2. Cevaplarınızı, cevap kâğıdının Genel Kültür Testi için ayrılan kısmına işaretleyiniz.

1.

- I. Orhun
II. Uygur
III. Arap
IV. Latin

Yukarıdakilerden hangileri Türklerin milli alfabelerindendir?

- A) I ve II B) II ve III C) III ve IV
D) II ve IV E) I, II, III ve IV

2.

- I. Karahanlı Devleti
II. Osmanlı Devleti
III. Karamanoğulları Beyliği

Yukarıda verilen devletlerden hangilerinin resmi dilinin Türkçe olduğu söylenebilir?

- A) Yalnız I B) Yalnız II C) Yalnız III
D) I ve II E) I, II ve III

3. Anadolu Selçuklu Devleti'nin önemli yollar üzerinde kervansaray yapmaları aşağıdakilerden hangisini doğrudan geliştirmeye yöneliktir?

- A) Askerlik B) Sanat C) Ticaret
D) Tarım E) Eğitim

4. Osmanlı Beyliği'nin kuruluşu sırasında Kırım merkez olmak üzere Karadeniz'in kuzeyine hakim olan devlet aşağıdakilerden hangisidir?

- A) Babür B) Altınordu
C) Harzemşah D) Karahanlı
E) Gazneli

5. İngiltere 1877- 1878 Osmanlı Rus Savaşı sırasında Osmanlı Devleti'ne yardım etmek amacıyla aşağıdaki adalardan hangisine yerleşmiştir?

- A) Girit B) Rodos C) Kıbrıs
D) Sakız E) Nikerya

6. Osmanlı Devleti'nde aşağıdakilerden hangisi, Divan'da alınan kararların kaydedildiği defterlerdir?

- A) Tahrir Defterleri B) Ruznamçe
C) Amediye D) Salname
E) Mühimme Defterleri

7. Aşağıdakilerden hangisi, III. Selim dönemi ile ilgilidir?

- A) Sekban-ı Cedid B) Nizam-ı Cedid
C) Vakayı Hayriye D) Sened-i İttifak
E) Tanzimat Fermanı

8. Osmanlı Devleti'nde milli kimliklerini koruyan azınlıklar, Fransız İhtilali'nden sonra batılı devletlerin de kışkırtmalarıyla bağımsız devletler kurmak için ayaklanmışlardır.

Buna göre Osmanlı Devleti'nde azınlıkların ayaklanmasında,

- I. Fransız ihtilalinin getirdiği fikirler
II. Avrupa devletlerinin kışkırtmaları
III. Milli devletlerin kurulmak istenmesi

faktörlerinden hangilerinin etkisi olduğu söylenebilir?

- A) Yalnız I B) Yalnız II C) Yalnız III
D) I ve II E) I, II ve III

9. Ege adaları ve Batı Trakya'nın aşağıdaki gelişmelerden hangisi ile tamamen Osmanlı Devleti'nin egemenliğinden çıktığı söylenebilir?

- A) 1877–1878 Osmanlı-Rus Savaşı (93 Harbi)
- B) Balkan Savaşları
- C) Trablusgarp Savaşı
- D) I. Dünya Savaşı
- E) Türk Kurtuluş Savaşı

10. Osmanlı Devleti, I. Balkan Savaşı'nda kaybettiği Edirne ve Kırklareli yöresini II. Balkan Savaşı'ndan yararlanarak hangi devletten geri almıştır?

- A) Bulgaristan
- B) Yunanistan
- C) Sırbistan
- D) Arnavutluk
- E) Karadağ

11. Mustafa Kemal'in aşağıdakilerin hangisinde savaştığı söylenemez?

- A) Trablusgarp Savaşı
- B) Irak Cephesi
- C) Çanakkale Cephesi
- D) Kafkas Cephesi
- E) Suriye - Filistin Cephesi

12. Mondros Ateşkes Antlaşması'nın uygulanmasının aşağıdaki gelişmelerden hangisinin gerçekleşmesinde rol oynadığı söylenemez?

- A) Kurtuluş Savaşı'nın başlaması
- B) Milli cemiyetlerin kurulması
- C) Azınlıkların olumsuz faaliyetlerinin artması
- D) Batı Trakya'nın Yunanistan tarafından işgal edilmesi
- E) Kuvayımilliye'nin kurulması

13.

- I. Kuvayımilliye
- II. Milli cemiyetler
- III. Kuvayıinzibatiye

Yukarıdakilerden hangileri, Mondros Ateşkes Antlaşması'nın uygulanmasını önlemek amacıyla kurulmuştur?

- A) Yalnız I
- B) Yalnız II
- C) I ve II
- D) II ve III
- E) I, II ve III

14. Aşağıdaki kongrelerden hangisinde, ilk kez Doğu Anadolu ile Doğu Karadeniz Bölgesi'ndeki milli cemiyetler birleştirilmiştir?

- A) Sivas Kongresi
- B) Erzurum Kongresi
- C) Alaşehir Kongresi
- D) Edirne Kongresi
- E) Balıkesir Kongresi

15.

- Yozgat Çapanoğlu Ayaklanması
- Konya Delibaş Mehmet Ayaklanması
- Şeyh Sait Ayaklanması
- İzmir Suikastı

Yukarıda verilen olaylara karşı TBMM'nin almış olduğu ortak önlem aşağıdakilerden hangisidir?

- A) Takrir-i Sükûn Kanunu kabul edildi.
- B) İstanbul Hükümeti ile bütün bağlar kopartıldı.
- C) Tekâlif-i Milliye kararları çıkartıldı.
- D) Terakkiperver Cumhuriyet Partisi kapatıldı.
- E) İstiklal Mahkemeleri kuruldu.

16. I. TBMM'nin yasama ve yürütme yetkisinin yanı sıra yargı yetkisini de kullanması;

- I. Otorite kurmak
- II. Hükümet bunalımını önlemek
- III. Kararları çabuklaştırmak

amaçlarından hangilerini gerçekleştirmeye yöneliktir?

- A) Yalnız I
- B) Yalnız II
- C) Yalnız III
- D) I ve III
- E) I, II ve III

17. Kütahya – Eskişehir Muharebelerinden sonra çıkartılan Tekâlif-i Milliye Emirleri ile;

- I. Sıkıyönetim
- II. Olağanüstü hal
- III. Topyekün seferberlik

hallerinden hangilerinin başlatıldığı söylenebilir?

- A) Yalnız I
- B) Yalnız II
- C) Yalnız III
- D) I ve II
- E) I,II ve III

18. Türkiye Büyük Millet Meclisi'ni, resmen tanıyan ilk batılı büyük devlet aşağıdakilerden hangisidir?

- A) İngiltere
- B) Fransa
- C) İtalya
- D) Almanya
- E) Sovyet Rusya

19. 3 Mart 1924'de TBMM'nin kabul etmiş olduğu değişiklikler arasında;

- I. Hilafetin kaldırılarak Osmanlı hanedanının yurt dışına çıkarılması
- II. Tevhid-i Tedrisat Kanunu'nun çıkarılması
- III. Erkan-ı Harbiye-i Umumiye Vekâleti'nin kaldırılması
- IV. Kadınlara istediği mesleğe girme hakkının tanınması

gelişmelerinden hangileri yoktur?

- A) Yalnız I
- B) Yalnız II
- C) Yalnız IV
- D) I ve II
- E) I,II ve III

20. Aşağıdaki yasalardan hangisinin çıkarılması ile Mustafa Kemal, TBMM'ye ait olan "yasama ve yürütme" yetkilerini doğrudan kullanmaya başlamıştır?

- A) Başkomutanlık Yasası
- B) Tekalif-i Milliye Yasası
- C) Misak-ı Milli
- D) Teşvik-i Sanayi Kanunu
- E) Ağnam Vergisi Kanunu

21.

- I. Teşvik-i Sanayi Kanunu
- II. Devletçilik politikası
- III. Kapitülasyonların kaldırılması

Yukarıdakilerden gelişmelerden hangilerinin, Atatürk Dönemi'nde Türk ekonomisinin güçlenmesini sağlamak amacıyla yapılan çalışmalar arasında olduğu söylenebilir?

- A) Yalnız I
- B) Yalnız II
- C) Yalnız III
- D) I ve II
- E) I, II ve III

22.

- I. Okul programlarından Arapça ve Farsça derslerinin çıkarılması
- II. Türk dilinden yabancı dilden gelen kelimelerin atılması
- III. Soyadı olarak Türkçe kelimelerin seçilmesinin teşvik edilmesi

Yukarıdakilerden hangileri Atatürk döneminde ulusal kültürü geliştirmek amacıyla gerçekleştirilmiştir?

- A) Yalnız I
- B) Yalnız II
- C) I ve II
- D) I ve III
- E) I, II ve III

23. Misakımilli ilkelerinin ortaya çıkmasında,

- I. Erzurum Kongresi
- II. Sivas Kongresi
- III. TBMM

hangilerinde yapılan çalışmaların rolü olduğu söylenebilir?

- A) Yalnız I
- B) Yalnız II
- C) Yalnız III
- D) I ve II
- E) I, II ve III

24. TBMM'nin kabul ettiği;

- I. Türk Medeni Kanunu'nun kabul edilmesi
- II. Saltanatın kaldırılması
- III. Cumhuriyet'in ilan edilmesi
- IV. Tekke-zaviye ve türbelerin kapatılması

kanunlarından hangilerinin hem halkçılık hem de cumhuriyetçilik ilkesi doğrultusunda kabul edildiği söylenebilir?

- A) Yalnız II B) I ve III C) I ve IV
D) II ve III E) I, II, III ve IV

25. I. Dünya Savaşı, birçok imparatorluğun yıkılmasına yol açan insanlık tarihinin en önemli olaylarından biridir.

Buna göre I. Dünya Savaşı sonunda,

- I. Osmanlı
- II. Avusturya-Macaristan
- III. Almanya

İmparatorluklardan hangilerinin yıkıldığı söylenebilir?

- A) Yalnız I B) Yalnız II C) Yalnız III
D) I ve II E) I,II ve III

26. Azerbaycan'a ait Karabağ yöresini işgal ederek Hocalı Katliamı'nın gerçekleştiren devlet aşağıdakilerden hangisidir?

- A) Ermenistan B) ABD C) Gürcistan
D) Yunanistan E) Sovyetler Birliği

27. Bir ülkenin coğrafi konumu birçok özellik üzerinde etkili olmaktadır.

Türkiye'de aşağıdaki özelliklerden hangisinin ortaya çıkmasında hem matematik konum hem de özel konum birlikte etkili olmuştur?

- A) Temmuz ayında en düşük sıcaklıkların Kuzeydoğu Anadolu'da görülmesi
- B) 21 Haziran'da en uzun gündüz süresinin yaşanması
- C) Doğusu ile Batısı arasında 76 dakikalık zaman farkının yaşanması
- D) Aralık ayında Antalya'da sıcaklık ortalamasının Zonguldak'tan fazla olması
- E) Ülkemizde dört mevsimin belirgin olarak yaşanması

28.

- I. İsrail Arap devletleriyle bir birer antlaşma imzalamıştır.
- II. İsrail Arapların aleyhinde sınırlarını genişletmiştir.
- III. Kudüs'ün yarısı İsrail Devleti'nin işgali altına girdi.

Yukarıdakilerden hangileri 1948- 1949 Arap – İsrail Savaşı'nın sonuçları arasında yer alır?

- A) Yalnız I B) Yalnız II C) Yalnız III
D) I ve II E) I, II ve III

29. Aşağıdakilerden hangisi Türkiye'nin yer şekilleri ile açıklanamaz?

- A) Akarsu yatak eğiminin fazla olması
- B) Yol yapımının güç olması
- C) Tarım alanlarının yüzölçümünün bölgeden bölgeye değişmesi
- D) Kısa mesafelerde iklim çeşitliliğinin yaşanması
- E) Kış aylarında cephesel yağışların etkisi altında kalması

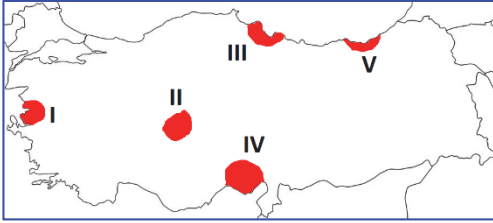
30. Aşağıdakilerden hangisi Türkiye'deki akarsuların havzalarında erozyonun şiddetli olduğunun en güzel kanıtıdır?

- A) Akarsu havzalarımızdan bazılarının geniş alan kaplaması
- B) Ülkemizde kapalı havzaların bulunması
- C) Akarsularımızın ulaşımında kullanılamaması
- D) Akarsularımızın geniş alan kaplayan delta ovaları oluşturmaları
- E) Akarsularımızın genelde kar suları ve ilkbahar yağışları ile besleniyor olmaları

31. Aşağıdakilerden hangisi Güneydoğu Anadolu Bölgesi'nin özellikleri arasında yer almaz?

- A) Ekonominin temeli tarım ve hayvancılığa dayanır.
- B) Kuraklığın en şiddetli yaşandığı yerdir.
- C) Fiziki haritada sadece sarı ve kahverengi tonları kullanılır.
- D) Türkiye'deki petrolün tamamı bu bölgeden çıkarılır.
- E) Yükseltisi güneyden kuzeye artar.

32. Tarım alanlarının sulanamadığı ve yağış miktarının yetersiz olduğu yörelerde tarım ürünlerinin üretim miktarında yıldan yıla dalgalanmalar görülür.



Buna göre yukarıdaki Türkiye haritasında numaralandırılmış alanların hangisinde tarım ürünleri üretimindeki dalgalanma daha belirgindir?

- A) I B) II C) III D) IV E) V

33. Kıyı bölgelerimizde akarsuların alüvyonları biriktirmesi ile oluşan birçok delta ovaları bulunmaktadır.

Aşağıdakilerden hangisi delta ovalarımızın ortak özelliklerinden değildir?

- A) Oluştukları bölgenin tüm kıyılarında kıta sahanlığının geniş olması
- B) Tarımsal etkinliklerin yoğunlaştığı alanlar olmaları
- C) Daha çok ekonomik değeri yüksek ürünlerin yetiştirilmesi
- D) Nüfusun toplandığı yoğun alanlar olmaları
- E) Karayolu ulaşım ağının yoğun olması

34. Şanlıurfa-Mardin arası ile Giresun-Rize arası kuş uçuşu uzaklıkları yaklaşık olarak aynıdır. Ancak otoyol yapım maliyetinin Giresun-Rize arasında daha fazla olduğu görülür.

Buna göre aşağıdakilerden hangisi Giresun-Rize arasındaki yol yapım maliyetinin yüksek olmasının sebebinin sonuçları arasında yer almaz?

- A) Tarımsal nüfus yoğunluğunun fazla olması
- B) Gerçek alan ile izdüşümü alan arasındaki farkın fazla olması
- C) Yağış rejiminin düzenli olması
- D) Akarsuların akış hızının fazla olması
- E) Tarımda makineleşmenin az olması

35. Besi hayvancılığının yaygın olduğu alanlarda et ve süt verimi mera hayvancılığının yapıldığı alanlara göre daha fazladır. Besi hayvancılığı nüfusun fazla ve pazarlama olanaklarının kolay olduğu yerlerde daha fazla gelişmiştir.

Buna göre besi hayvancılığı aşağıdaki bölgelerden hangisinde diğerlerine göre daha fazla gelişmiştir?

- A) Marmara Bölgesi
- B) Doğu Anadolu Bölgesi
- C) Karadeniz Bölgesi
- D) Akdeniz Bölgesi
- E) İç Anadolu Bölgesi

36. Türkiye ulaşım yolları ile ilgili verilen bilgilerden hangisi yanlıştır?

- A) En pahalı ulaşım yolu havayolu, en ucuzu denizyolu ulaşımıdır.
- B) Dış ticaretin büyük bir kısmı deniz yolu ulaşımı ile sağlanmaktadır
- C) Ege ve Marmara Bölgesi limanları Karadeniz Bölgesi limanlarına göre daha işlektir.
- D) Akdeniz Bölgesi limanlarının tamamı turistik amaçla kullanılmaktadır
- E) En işlek iki limanımız İstanbul ve İzmir limanlarıdır.

37. Ülkemizde var olan barajların kullanım süresi Avrupa ülkelerine oranla çok daha kısa sürelidir. **Ülkemizdeki barajların kısa süreli kullanımına neden olan temel faktör aşağıdakilerden hangisidir?**

- A) Barajların yanlış yerde kurulması
- B) Teknolojik donanım eksikliği
- C) Diğer enerji santrallerine daha çok önem verilmesi
- D) Erozyon etkisinin fazla kalması
- E) Akarsuların yatağının değiştirilmesi

38. **Güneydoğu Anadolu Bölgesi, İç Anadolu Bölgesi'ne göre daha fazla yağış almasına rağmen, Güneydoğu Anadolu'da yaz kuraklığının daha şiddetli olmasının nedeni, aşağıdakilerden hangisidir?**

- A) Toprağın geçirimli olması
- B) Yer şekillerinin sade olması
- C) Buharlaşmanın fazla olması
- D) Step topraklarının görülmesi
- E) Bitki örtüsünün bozkır olması

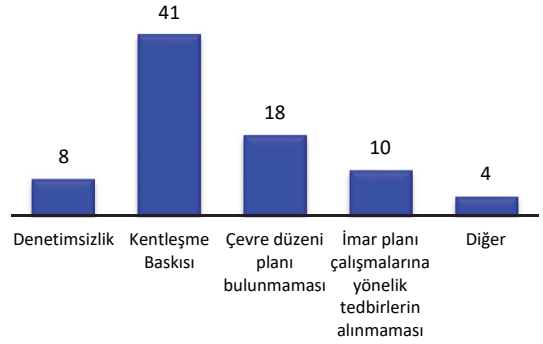
39. **Aşağıdaki verilenlerden hangisi Türkiye'deki dağlar için söylenirse doğru olmaz?**

- A) Ege Bölgesi'nde kıyıya dik, Akdeniz ve Karadeniz'de kıyıya paralel uzanmasında levha hareketleri etkili olmuştur.
- B) Bazıları IV. jeolojik zamandaki buzullaşmadan etkilenmiştir.
- C) Ege Bölgesi'nde akarsuların akış yönünün doğu-batı yönünde, Akdeniz Bölgesi'nde ise kuzey-güney yönünde olmasına neden olmuştur.
- D) Tüm dağlarımızda kış turizm potansiyeli yüksektir.
- E) Karadeniz ve Akdeniz kıyı kesimleri ile iç kesimler arasındaki ulaşımın güç olmasında etkili olmuştur.

40. Türkiye'de turizm faaliyetleri çeşitlilik gösterir. **Aşağıdaki seçeneklerden hangisinde turizm faaliyeti ile yapıldığı yer eşleştirmesi yanlış verilmiştir?**

Turizm faaliyeti	Yer
A) Kış sporları	Palandöken
B) Sağlık Turizmi	Kızılcahamam
C) Tarih Turizmi	Efes
D) Deniz Turizmi	Truva
E) Doğa turizmi	Abant-Yedigöller

41. Aşağıdaki tabloda Türkiye'deki il sınırları içerisinde tarım topraklarının amaç dışı kullanımına neden olan faktörler ve il sayıları verilmiştir.



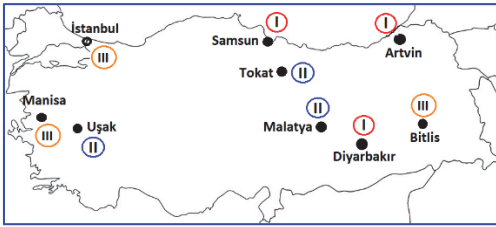
Tablodaki bilgilere bakılarak aşağıdakilerden hangisini söylemek yanlış olur?

- A) Kentleşme baskısı tarım topraklarının amaç doğrultusunda kullanımında en fazla etkili olmuştur.
- B) Denetimsizlik ve plan çalışmalarına yönelik tedbirlerin alınmaması sonucu etkilenen illerin toplamı, çevre düzeni bulunmaması nedeniyle etkilenen arazilerin bulunduğu il sayısına eşittir.
- C) Kentleşme baskısının etkilediği il sayısı, çevre düzeni planı bulunmaması nedeniyle etkilenen il sayısının iki katından fazladır.
- D) İmar planı çalışmalarına yönelik tedbirlerin alınmaması nedeniyle amaç dışı toprakların kullanıldığı il sayısı Türkiye'deki illerin yaklaşık yüzde 12'sinden fazladır.
- E) Tarım topraklarının amaç dışı kullanımında kentleşme baskısının etkisi Türkiye'deki illerin yarısından fazlasında etkili olmaktadır.

42. Aşağıdakilerden hangisi, Türkiye’de yapılan nüfus sayımlarının amaçlarından biri değildir?

- A) Nüfusun yaş gruplarına göre dağılımını belirlemek
- B) Nüfus artış hızını tespit etmek
- C) Nüfusunun ekonomik faaliyet kollarına göre dağılımını belirlemek
- D) Bebek ölümlerinin nedenlerini ortaya çıkarmak
- E) Toplam nüfus miktarını belirlemek

43. Aşağıdaki Türkiye haritasında üç farklı sanayi işletmesinin bulunduğu bazı iller verilmiştir. **Bunlar;**



Buna göre, aşağıdaki seçeneklerin hangisinde haritada numaralandırılmış üç sanayi tesisi sırası ile bir arada verilmiştir?

	I	II	III
A)	Bakır	Şeker	Tütün
B)	Demir-çelik	Deri	Gübre
C)	Petrol arıtma	Kimya	Lastik
D)	Alüminyum	Savunma	Krom
E)	Seramik	Kâğıt	Çimento

44. Aşağıdakilerden hangisi Türkiye’de yer şekillerinin etkisiyle ortaya çıkan sonuçlardan biri değildir?

- A) Dağların kuzeyde ve güneyde kıyıya paralel uzanışı nedeniyle iç kesimlerle ulaşımın zor olması
- B) Doğu Anadolu’da sert karasal iklimin yaşanması
- C) Ege Bölgesi’nde ihracata yönelik endüstri ürünlerinin yetiştirilmesi
- D) Kara ve demir yollarının uzanışının çoğunlukla doğu-batı yönlü olması
- E) Ege Bölgesi’nde doğal limanların ve körfezlerin fazla olması

45. Akdeniz Bölgesi ile Ege Bölgesi’nin doğal koşulları göz önüne alınarak bölge genelinde karşılaştırıldığında, Ege Bölgesi için aşağıdakilerden hangisi söylenemez?

- A) Yer şekilleri ulaşımına daha elverişlidir.
- B) Orman varlığı daha zengindir.
- C) Yıllık yağış miktarı azdır.
- D) Termal turizm olanakları fazladır.
- E) Doğal liman sayısı daha fazladır

46. 1982 Anayasası’nda temel hak ve özgürlüklerin kullanılmasının durdurulabileceği haller ayrıntılı bir şekilde belirlenmiştir.

Buna göre; aşağıdakilerden hangisi bu haller arasında gösterilemez?

- A) Savaş hali
- B) Genel Seferberlik
- C) Olağanüstü hal
- D) Seçim hali
- E) Seferberlik hali

47. 1982 Anayasası’na göre, savaş ilanına karar verme yetkisi aşağıdakilerden hangisine aittir?

- A) TBMM
- B) Genel Kurmay Başkanlığı
- C) Cumhurbaşkanlığı Kabinesi
- D) Milli Savunma Bakanlığı
- E) Milli Güvenlik Kurulu

48. Rekabet Kurulu aşağıdaki bakanlıklardan hangisine bağlıdır?

- A) Milli Eğitim Bakanı
- B) Maliye Bakanı
- C) İçişleri Bakanı
- D) Sağlık Bakanı
- E) Sanayi ve Ticaret Bakanı

49. Aşağıdakilerden hangisi, TBMM’nin görev ve yetkilerinden biri değildir?

- A) Cumhurbaşkanı’nı denetlemek
- B) Cumhurbaşkanı’nı seçmek
- C) Kanunları çıkarmak
- D) Kamu Başdenetçisi’nin seçilmesi
- E) Sayıştay üyelerini seçmek

50.

- I. Siyasi partiler
- II. Vakıflar
- III. Kamu kuruluşları

Yukarıdakilerden hangilerinin mali denetimini Anayasa Mahkemesi yapar?

- A) Yalnız I
- B) Yalnız II
- C) Yalnız III
- D) I ve II
- E) I,II ve III

51. **Temel hak ve hürriyetler denildiğinde;**

- I. Dokunulamaz
- II. Vazgeçilemez
- III. Devredilemez

haklardan hangilerine dikkat çekilmektedir?

- A) Yalnız I
- B) Yalnız II
- C) Yalnız III
- D) II ve III
- E) I,II ve III

52. **Devlet Denetleme Kurulu,**

- I. Vergi Mahkemeleri
- II. Askeri kuruluşlar
- III. Dernekler

kurumlarından hangilerini denetleyemez?

- A) Yalnız I
- B) Yalnız II
- C) Yalnız III
- D) I ve II
- E) I,II ve III

53. **Aşağıdaki yasal metinlerden hangisi, Cumhurbaşkanlığı kabinesi tarafından çıkarılır, Danıştay'ın incelemesinden geçerek, Cumhurbaşkanınca onaylandıktan sonra yayımlanır?**

- A) Kanun
- B) Önerge
- C) Yönetmelik
- D) Genelge
- E) Anayasa

54. **Milletvekilinin kanun önerisine ne ad verilir?**

- A) Gensoru
- B) Kadük
- C) Soru
- D) Kanun teklifi
- E) Kanun tasarısı

55. **TBMM üye sayısının yüzde kaçının boşalması halinde ara seçimlere gidilir?**

- A) 5
- B) 6
- C) 7
- D) 8
- E) 9

56. **Aşağıdaki küresel ve bölgesel örgütlerden hangisinde Türkiye'nin üyeliği bulunmaz?**

- A) NAFTA
- B) BM
- C) OECD
- D) AGİT
- E) KEİ

57. **Dünyada mültecileri korumak ve mülteci sorunlarına çözüm bulmak amacıyla kurulan örgüt aşağıdakilerden hangisidir?**

- A) ILO
- B) WHO
- C) UNHCR
- D) UNICEF
- E) IMF

58. **Türkiye'nin 2. Nükleer santrali aşağıdaki illerden hangisinde kurulması planlanmaktadır?**

- A) Sinop
- B) Trabzon
- C) Gümüşhane
- D) Elazığ
- E) Malatya

59. **Basra Körfezi'ni Hint Okyanusu'na bağlayan ve daha çok petrol taşımacılığı için kullanılan boğaz aşağıdakilerden hangisidir?**

- A) Bering Boğazı
- B) Macellan Boğazı
- C) Babülmendep Boğazı
- D) Hürmüz Boğazı
- E) Cebelitarık Boğazı

60. **Türkiye'de üretilen ilk yerli mayına karşı dayanaklı tankın adı aşağıdakilerden hangisidir?**

- A) Atak
- B) Atmaca
- C) Kirpi
- D) Salyangoz
- E) Kaplumbağa